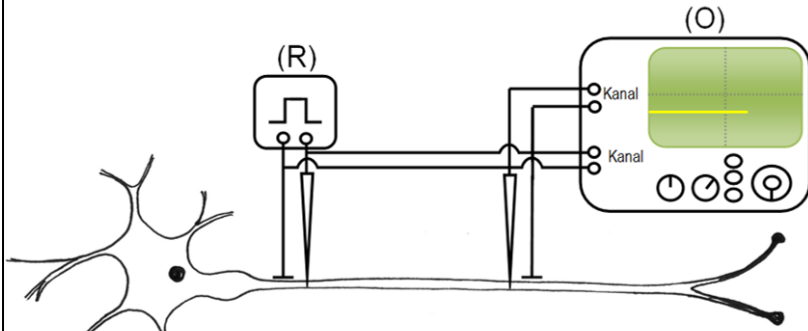
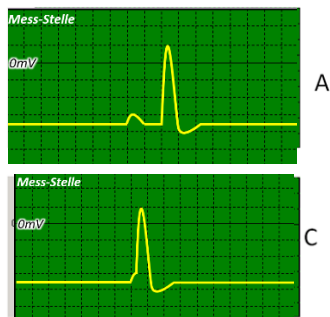


Mittels nachfolgendem Versuchsaufbau wird ein Neuron auf unterschiedliche Arten gereizt:

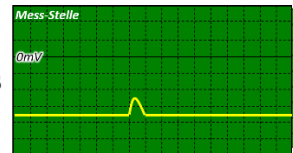


Ordnen Sie die unterschiedlichen Reize den Abbildungen von der Neuron-Antwort am Oszilloskop begründet zu!

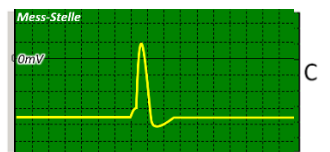
Nr.	Reizstärke in mV (innen positiv gegenüber außen)	Abstand zwischen Reizelektrode und Messelektrode in mm
1	25	5
2	35	30
3	35	5
4	25	30



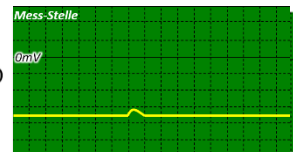
A



B

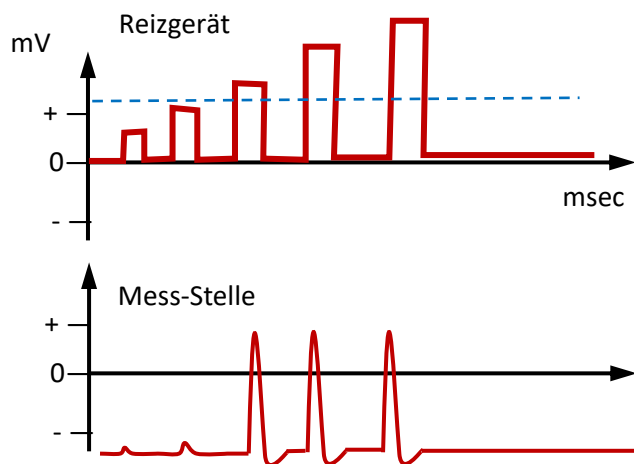


C



D

Interpretieren Sie die folgende Grafik!



Interpretieren Sie die folgende Grafik!

